

## ¡MIS PALABRAS FAVORITAS!

- 1 **Escribe** tu nombre en imprenta minúscula y en cursiva.

- 👁️ **Rodea** con 🌺 las vocales y con 🌿 las consonantes.

- 2 **Completa** con tus palabras favoritas.

- 👁️ El nombre de un amigo o amiga que empiece con consonante:

\_\_\_\_\_

- 👁️ El nombre de una comida que termine con vocal:

\_\_\_\_\_

- 👁️ El nombre de un juguete que tenga tres vocales:

\_\_\_\_\_

## NÚMEROS HASTA EL 100

Esta es una porción del cuadro de números.



35				
	46			
55				59
		67		

72		74		
	83			86
			95	




- 1 **Lee y resuelve.**

- 👁️ **Escribe** los números que faltan en la columna que empieza con 35.
- 👁️ **Escribe** los números que faltan en la fila del 90.
- 👁️ **Completa** con 🌿 los otros números que faltan en el cuadro.


# ¡CUÁNTO CRECÍ!

1 **Escribe** lo que ves en cada foto de Ramiro. Usa palabras con **ch, ll, y, r** y **rr**.



\_\_\_\_\_

\_\_\_\_\_



\_\_\_\_\_

\_\_\_\_\_



\_\_\_\_\_

\_\_\_\_\_




\_\_\_\_\_

\_\_\_\_\_

👁️ **Numera** las fotos del 1 al 4 de acuerdo a las etapas de la vida de Ramiro.

# TODOS A MEDIR

1 **Mide** la línea violeta y **dibuja** otra que sea tres centímetros más larga. Luego **completa**.



La línea que tracé mide:



# ¡SOPA DE SÍLABAS!

1 Encuentra y rodea los nombres de los dibujos.

GUI	TA	RRA	PA	TE	PA	GE
PA	TO	HE	CO	JA	RA	LA
NU	PIN	GÜI	NO	PU	GÜE	TI
RE	CI	LU	BE	PA	RO	NA
GI	RA	SOL	TA	RU	JO	PI
ME	TA	PE	MAN	GUE	RA	XA




2 En tu cuaderno, **escribe** una oración con cada palabra.

# DOBLES CON DADOS

1 Este es el juego de los dobles, pero con 2 dados. **Completa** el cuadro.

DADOS		SUMAN	EL DOBLE ES
		9	18
			20
			16
		6	

# ¡A BUSCAR!



1 **Observa** la ilustración y **escribe** un adjetivo para cada sustantivo.

Sustantivo común	Adjetivo
Jirafa	
Mono	
Elefante	

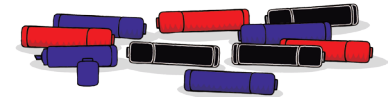
2 Ahora, **piensa** y **escribe** un sustantivo para cada adjetivo.

Sustantivo común	Adjetivo
	Friolenta
	Verde
	Gracioso

# PROBLEMAS EN EL TALLER

1 **Resuelve** estos problemas. **Comprueba** los resultados con una calculadora.

En el taller de Arte hay 18 silvapenes de color negro, 15 de color rojo y 37 de color azul. ¿Es verdad que hay más de 70 silvapenes?  
¿Por qué?



La profesora de Arte necesita 100 hojas de papel de colores para hacer un *collage*. En el taller había 73 hojas, y la directora consiguió el resto. ¿Cuántos papeles faltaban?





## ¡QUÉ DIVERTIDO!

1 **Escríbele** un correo electrónico a alguien muy especial para ti. **Incluye:**

- 👁 Dos oraciones exclamativas.
- 👁 Dos oraciones interrogativas.

Mensaje nuevo □ ×

Para: \_\_\_\_\_

Asunto: \_\_\_\_\_ 📎

\_\_\_\_\_

\_\_\_\_\_

\_\_\_\_\_

\_\_\_\_\_

\_\_\_\_\_

\_\_\_\_\_



## CÁLCULOS Y PROBLEMAS

1 **Elige** el cálculo que te permite resolver este problema. Luego, **resuélvelo**.

Bauti compró 9 paquetes de figuritas de fútbol y 7 paquetes de figuritas de animales. ¿Cuántos paquetes compró?

$9 \times 7$

$9 + 7$

$9 - 7$

2 **Escribe** un problema que se resuelva con este cálculo:  $4 + 5$ .

\_\_\_\_\_

\_\_\_\_\_

\_\_\_\_\_

\_\_\_\_\_

## LUZ, CÁMARA..., ¡ACCIÓN!

1 **Escribe** las acciones que realizan estas personas.



---



---



---



---

👁 En tu cuaderno, **escribe** una oración para cada dibujo usando las acciones que indicaste.

## DATOS INNECESARIOS

1 **Tacha** los datos que no sirvan y **resuelve**.

Lucas compró 3 bandejas con 4 sándwiches en cada una. Cada bandeja cuesta \$ 100. ¿Cuántos sándwiches compró?

Un cartón de lotería tiene 3 filas de 8 casilleros cada una. Si hay 8 números tachados, ¿cuántos casilleros tiene el cartón?

## ¡AYER, HOY Y MAÑANA!

- 1 **Escribe** una oración contando lo que hiciste ayer, lo que estás haciendo ahora y lo que harás mañana.

Ayer...

---

---

Hoy...

---

---

Mañana...

---

---

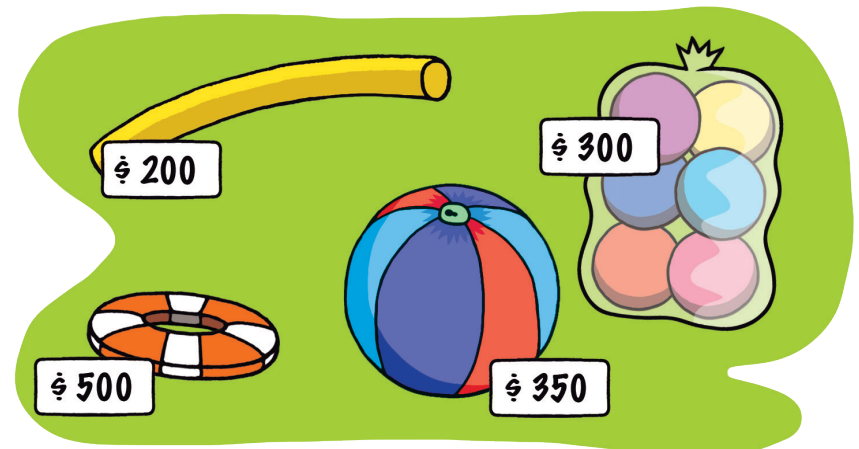
- 👁 **Rodea** con 🌞 los verbos que escribiste en tus oraciones.



## MÁS PROBLEMAS

- 1 **Lee** y **resuelve** estos problemas en tu cuaderno.

Como regalo de cumple, Dana pidió juegos para la piscina.



- Su mamá le compró la pelota grande y el salvavidas. ¿Cuánto gastó?
- Si pagó con \$ 1.000, ¿cuánto le dieron de vuelto?
- ¿Le alcanza con lo que le sobra para comprar también un pancho?
- La abuela quiere comprarle a Dana 18 pelotitas. ¿Cuántos paquetes tiene que comprar? ¿Le alcanza con \$ 1.000? ¿Le sobra o le falta? ¿Cuánto?