

SOPITA DE LETRAS


1 **RODEA** EN LA SOPA LOS NOMBRES DE ESTOS DIBUJOS.





L	U	N	A	J	G
N	S	O	B	R	E
N	P	A	T	O	X
M	O	L	I	N	O
E	L	A	N	A	B

¡VAMOS A SUMAR!

1 **COMPLETA** LOS CÁLCULOS. LUEGO, **ESCRIBE** Y **DIBUJA** EL RESULTADO.



$$\square + \square = \square$$



$$\square + \square = \square$$

BUSCAPALABRAS

¡DÍA DE CAMPO!

DANI Y TAMI:

LAS ESPERO EL LUNES A LAS DIEZ DE LA MAÑANA EN MI CAMPO, QUE ESTÁ AL LADO DE LA FÁBRICA DE FIDEOS.

DESAYUNAREMOS TOSTADAS CON DULCE DE NARANJA, TÉ DE DURAZNO, CAFÉ Y TORTA DE FRUTILLAS.

¡NO OLVIDEN TRAER LANA PARA TEJER!
¡LAS ESPERO!

FEFA

1 **BUSCA** EN LA INVITACIÓN Y **COPIA**:


👁️ DOS PALABRAS QUE TENGAN **T**.

👁️ DOS PALABRAS QUE TENGAN **D**.

👁️ DOS PALABRAS QUE TENGAN **F**.

FIGURAS GEOMÉTRICAS

1 **COMPLETA** CON LAS CARACTERÍSTICAS DE ESTA FIGURA.





CANTIDAD DE VÉRTICES: _____

CANTIDAD DE LADOS RECTOS: _____


CANTIDAD DE LADOS CURVOS: _____

CON TODAS LAS LETRAS

1 **RODEA** EN LA SOPA DE LETRAS EL NOMBRE DE ESTOS ANIMALES.



H	T	C	O	N	E	J	O	C
U	A	W	V	I	P	N	Y	R
R	C	A	R	A	C	O	L	A
Ó	U	I	J	U	J	U	F	T
N	Z	N	T	D	G	G	M	Ó
W	X	B	O	J	Q	O	P	N
M	O	S	Q	U	I	T	O	X



CALCULAMOS

1 **COMPLETA** ESTOS CUADROS.

-1		+1
	9	
	29	
	39	

-10		+10
	16	
	35	
	49	

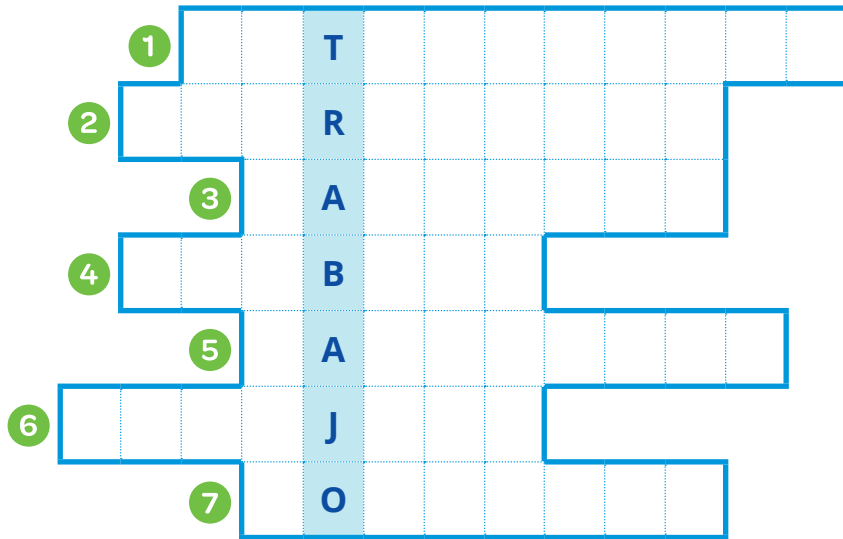
2 ¿QUÉ PASA CUANDO SE AGREGA 10 A UN NÚMERO? **MARCA** LA RESPUESTA CORRECTA.

CAMBIA LA CIFRA DE ADELANTE.

CAMBIA LA CIFRA DE ATRÁS.


LOS TRABAJOS

1 **COMPLETA** ESTE ACRÓSTICO.



BILLETES Y MONEDAS

1 **DIBUJA** LOS BILLETES Y MONEDAS NECESARIOS PARA PAGAR ESTOS PRODUCTOS.



ARMAMOS ORACIONES

1 ORDENA LAS PALABRAS Y ESCRIBE LAS ORACIONES.

JAVIER SUS JUGUETES JUEGA CON



PONE EN JARRÓN UN JAZMINES JULIA



KIARA EN NAVEGA KAYAK









MUÑECA LA TIENE MOÑO



LOS DOBLES






1 DIBUJA LOS DOBLES DE ESTAS CARTAS.



PASO A PASO

1 **COMPLETA** LOS NOMBRES DE LOS MATERIALES Y **NUMERA** LOS PASOS.

MATERIALES:

-  T _____
-  S _____
-  R _____
- CON  A _____
-  M _____

- 1 COLOCAR LA TIERRA EN LA MACETA.
- CUBRIR LAS SEMILLAS CON TIERRA.
- HACER PEQUEÑOS HOYOS EN LA TIERRA.
- DEPOSITAR LAS SEMILLAS EN LOS HOYOS.
- REGAR LA TIERRA Y LAS SEMILLAS.

CUENTAS FÁCILES

1 **RESUELVE** ESTOS CÁLCULOS.

$3 + 3 =$	<input type="text"/>	$30 + 30 =$	<input type="text"/>
$5 + 2 =$	<input type="text"/>	$50 + 20 =$	<input type="text"/>
$6 - 1 =$	<input type="text"/>	$60 - 10 =$	<input type="text"/>
$7 - 2 =$	<input type="text"/>	$70 - 20 =$	<input type="text"/>

2 SI SABES QUE $30 + 10 = 40$, **CALCULA**:

$30 + 11 =$	<input type="text"/>
$30 + 12 =$	<input type="text"/>
$30 + 13 =$	<input type="text"/>



BLANCA Y BRILLANTE

1 **LEE** RAPIDITO ESTE TRABALENGUAS.

¡QUÉ BRILLO DESTELLA ESA BLANCA
ESTRELLA!
COMO SI TUVIERA BRILLITOS...
¡ESTRELLADA Y BELLA!
TAN BRILLANTE, BLANQUEADA
Y BRILLOSA... ¡ESTRELLA BLANQUITA,
ESTRELLITA PRECIOSA!

2 **COMPLETA** CON UNA PALABRA QUE
PERTENEZCA A CADA FAMILIA.

BRILLO

BLANCO

ESTRELLA

¡A RESOLVER PROBLEMAS!

1 **RESUELVE** EN TU CUADERNO.

A EN LA BÚSQUEDA DEL TESORO,
EL EQUIPO «LOS SOLES» ENCONTRÓ
25 PIEDRAS GRANDES Y 12 CHICAS.
¿CUÁNTAS TIENE EN TOTAL?

B EL EQUIPO «LOS PLANETAS» TIENE
30 PUNTOS Y «LOS ASTEROIDES» TIENE
42. ¿CUÁNTOS PUNTOS NECESITA «LOS
PLANETAS» PARA EMPATARLO?

C EN EL JUEGO NOCTURNO HAY QUE
ENCONTRAR 45 BOLITAS DE COLORES.
¿CUÁNTAS LE FALTAN AL EQUIPO «LAS
ESTRELLAS» SI YA TIENE 33 BOLITAS?