



MOLINETE de ACTIVIDADES



1 **COMPLETA** CON LA LETRA INICIAL DE CADA DIBUJO.



___ RAÑA



___ JOTA




___ NICORNIO



___ SCOBA


2 **PINTA** SOLO LA CANTIDAD QUE INDICA EL CARTEL.

6



👁️ ¿CUÁNTOS QUEDARON SIN PINTAR? _____

3 **MARCA** LAS SITUACIONES QUE PUEDEN SER PELIGROSAS.





MOLINETE de ACTIVIDADES

1 **ESCRIBE** EL NOMBRE DE ESTOS DIBUJOS.



2 **COMPLETA** CON EL NÚMERO QUE CORRESPONDA EN CADA CASO.

1 MENOS		1 MÁS
←	11	→
←	14	→
←	18	→

3 **DIBUJA** O **ESCRIBE** DOS CONSEJOS PARA ESTAR SANOS.

✓

1 **ORDENA** LAS PALABRAS Y **ESCRIBE** LA ORACIÓN.

DAIANA TOSTADAS COME CON DULCE NARANJA DE



2 **COMPLETA** LOS NÚMEROS QUE FALTAN.

0	1	2	3	4	5	6	7	8	9
10	11			14		16	17	18	
20		22	23		25	26		28	29

3 **RODEA** EL OBJETO QUE NO SE USABA EN LA ÉPOCA COLONIAL.





**MOLINETE de
ACTIVIDADES**



- 1 ¡TUTTI FRUTTI DE ANIMALES! **ESCRIBE** EL NOMBRE DE UN ANIMAL QUE COMIENCE CON CADA LETRA.

LETRA	ANIMAL
R	
H	

LETRA	ANIMAL
C	
L	

- 2 **LEE** LA PREGUNTA DE LUZ Y **MARCA** LA RESPUESTA CORRECTA.





¿CUÁNTOS MESES HAY EN UN AÑO?

15

9

12

- 3 **RODEA** LAS PARTES DEL CUERPO QUE USAN PARA DESPLAZARSE.



**MOLINETE de
ACTIVIDADES**

1 **UNE** CON FLECHAS CADA DIBUJO CON SU NOMBRE.

BABERO



CEREZAS

ZAPATO




VESTIDO

2 **LEE** LO QUE DICE LUZ Y **RODEA** LA BALANZA CORRECTA.



LAS BANANAS
PESAN MÁS
QUE LAS
MANZANAS.



3 ¿DÓNDE TRABAJA ESTE SEÑOR: EN EL CAMPO O EN LA CIUDAD? ¿CÓMO TE DISTE CUENTA? **ESCRÍBELO.**





MOLINETE de ACTIVIDADES

1 **ESCRIBE** EL NOMBRE DE CADA DIBUJO.



👁 **ELIGE** DOS PALABRAS DE LAS ANTERIORES Y **ESCRIBE** UNA ORACIÓN.

2 **DIBUJA** LAS TECLAS DE LA CALCULADORA QUE DEBERÍAS APRETAR PARA HACER ESTE CÁLCULO.

$$20 + 35$$

3 **MARCA** CON UNA **X** LAS CARACTERÍSTICAS DE ESTE OBJETO.



PERMEABLE

IMPERMEABLE

FRÁGIL

RESISTENTE

RÍGIDO

FLEXIBLE



**MOLINETE de
ACTIVIDADES**

1 **SEPARA** LAS PALABRAS Y **ESCRIBE** EL MENSAJE SECRETO.


ELMAGOGERMÁNSACÓROPADESUGALERA



👁 EN TU CUADERNO, **ESCRIBE** DOS ORACIONES CON EL NOMBRE DE ESTAS PRENDAS.



2 **MARCA** EL CUERPO GEOMÉTRICO QUE PUDO HABER DEJADO ESTA HUELLA.



3 **PIENSA** Y **ESCRIBE** LO QUE SE PIDE EN CADA CASO.


👁 UNA PLANTA DE LA QUE SE COMA LA RAÍZ: _____

👁 UNA PLANTA DE LA QUE SE COMA LA FLOR: _____



MOLINETE de ACTIVIDADES

1 **ELIGE** UNO DE ESTOS DIBUJOS Y **ESCRIBE** UNA BREVE HISTORIA EN TU CUADERNO.



2 **RESUELVE**. SI SALEN DE CAMPAMENTO 24 ESTUDIANTES DE 1.º A Y 31 ESTUDIANTES DE 1.º B:

👁 ¿CUÁNTOS ESTUDIANTES VAN EN TOTAL?

👁 ¿CUÁNTOS ESTUDIANTES MÁS HAY EN 1.º B?

3 **OBSERVA** LA FOTO Y **COMPLETA**.



ELEMENTOS NATURALES:

ELEMENTOS ARTIFICIALES: